



उत्तर प्रदेश पुलिस

कांस्टेबल

UTTAR PRADESH POLICE RECRUITMENT & PROMOTION BOARD

भाग – 2

गणित एवं तार्किक योग्यता



UTTAR PRADESH CONSTABLE

CONTENTS

गणित

1.	संख्या पद्धति	1
2.	सरलीकरण	9
3.	लघुत्तम समापवर्त्य व महत्तम समापवर्तक	14
4.	प्रतिशतता	17
5.	बट्टा	22
6.	लाभ – हानि	25
7.	साझेदारी	30
8.	औसत	36
9.	आयु	40
10.	साधारण ब्याज	42
11.	चक्रवृद्धि ब्याज	46
12.	अनुपात एवं समानुपात	49
13.	समय और कार्य	54
14.	चाल, समय और दूरी	57
15.	नाव और धारा	61
16.	क्षेत्रमिति	66
17.	डाटा इंटरप्रिटेशन	83

तार्किक योग्यता

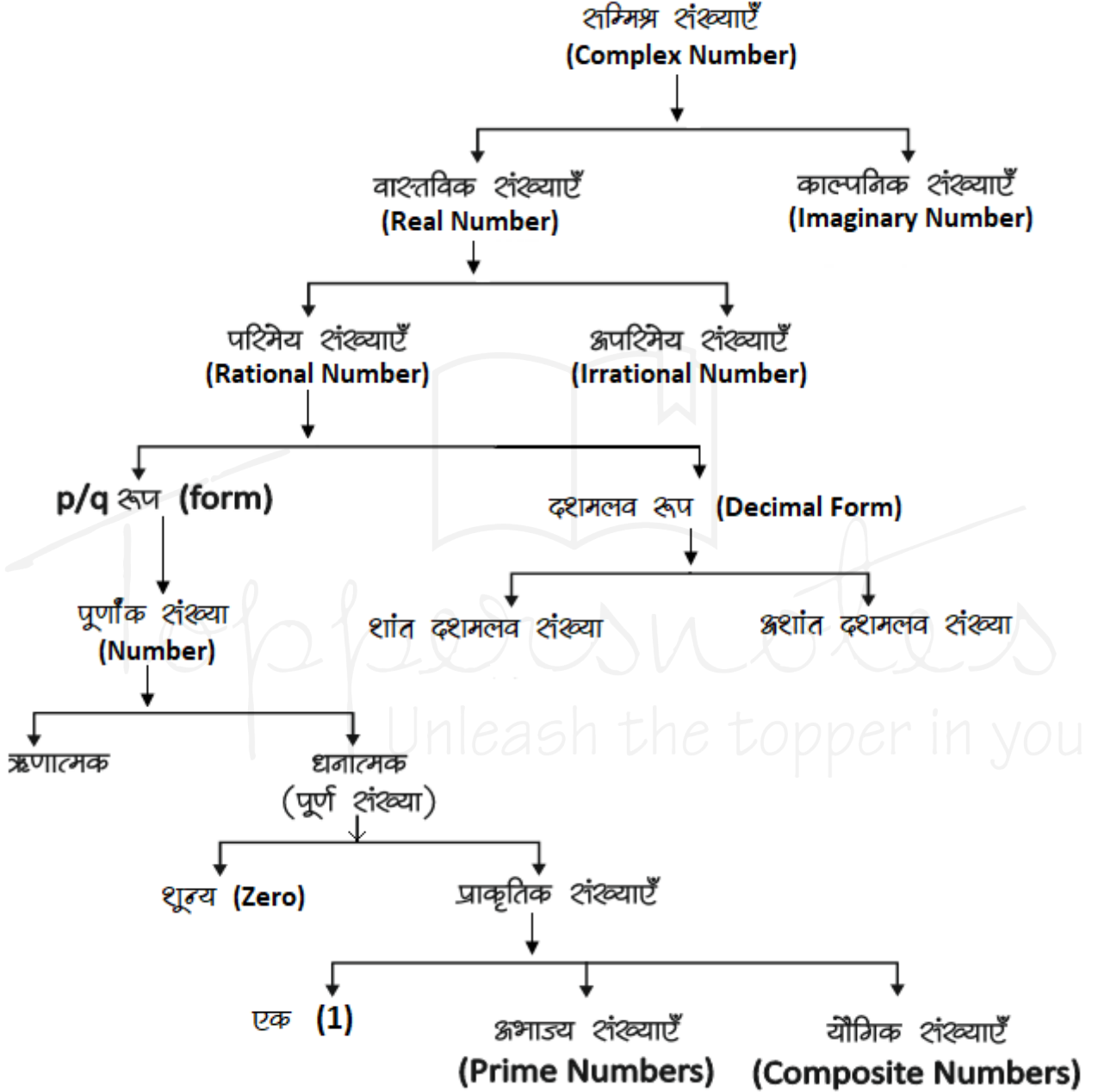
Verbal

1.	अंग्रेजी वर्णमाला परीक्षण	96
2.	कूट-भाषा परीक्षण	100
3.	वर्गीकरण	104
4.	सादृश्यता	108
5.	श्रृंखला	113
6.	रक्त संबंध	117
7.	क्रम और रैंकिंग	123
8.	बैठक व्यवस्था	126
9.	न्याय निगमन	131
10.	पासा	137
11.	गणितीय संक्रियाएँ	141
12.	घड़ी	143
13.	कैलेण्डर	146
14.	वेन आरेख	148
15.	निर्णय एवं समस्या समाधान	153
16.	कथन और निष्कर्ष	158
17.	कथन और तर्क	162
18.	कथन और धारणा	166
19.	कथन और कार्यवाही	171

Non-Verbal

1.	आकृति श्रृंखला	177
2.	आकृति सादृश्य	182
3.	दर्पण एवं जल प्रतिबिम्ब	186
4.	आकृति निर्माण	190
5.	अपूर्ण आकृति को पूरा करना	193
6.	सन्निहित आकृतियाँ	198
7.	आकृतियों की गणना	202
8.	कागज मोड़ना एवं काटना	209

संख्या पद्धति (Number System)



संमिश्र संख्याएँ (Complex Number) (z)

$Z =$ वास्तविक संख्या + काल्पनिक संख्या

$$Z = a + ib$$

जहाँ $a =$ वास्तविक संख्या
 $b =$ काल्पनिक संख्या

वास्तविक संख्याएँ

परिमेय एवं अपरिमेय संख्याओं को संमिलित रूप से वास्तविक संख्या कहते हैं। इन्हें संख्या रेखा पर प्रदर्शित किया जा सकता है।

काल्पनिक संख्याएँ : जिन्हें संख्या रेखा पर प्रदर्शित नहीं किया जा सकता है।

पूर्णांक संख्याएँ : संख्याओं का ऐसा समुच्चय जिसमें पूर्ण संख्याओं के साथ-साथ

ऋणात्मक संख्याएँ भी सम्मिलित हो, पूर्णांक संख्याएँ कहलाती हैं, इसे I से सूचित करते हैं।
 $I = \{-4, -3, -2, -1, 0, 1, 2, 3, 4, \dots\}$

प्राकृत संख्याएँ : जिन संख्याओं का इस्तेमाल वस्तुओं को गिनने के लिए किया जाता है, प्राकृत संख्या कहते हैं।

$$N = \{1, 2, 3, 4, 5, \dots\}$$

पूर्ण संख्याएँ : जब प्राकृत संख्याओं के परिवार में 0 को भी शामिल कर लेते हैं, तब वह पूर्ण संख्याएँ कहलाती हैं।

$$W = \{0, 1, 2, 3, 4, 5, \dots\}$$

चार लगातार प्राकृतिक संख्याओं का गुणनफल हमेशा 24 से पूर्णतः विभाज्य होता है।

सम संख्याएँ : संख्याएँ जो 2 से पूर्णतः विभाज्य हो सम संख्या कहलाती हैं।

$$n \text{ वां पद} = 2n$$

प्रथम n सम संख्याओं का योग = $n(n+1)$

प्रथम n सम संख्याओं के वर्गों का

$$\text{योग} = \frac{2n(n+1)(2n+1)}{3}$$

$$\left\{ n = \frac{\text{अंतिम पद}}{2} \right\}$$

विषम संख्याएँ : वह संख्याएँ जो 2 से विभाजित न हो, विषम संख्याएँ होती हैं।

प्रथम n विषम संख्याओं का योग = n^2

$$\left\{ n = \frac{\text{अंतिम पद} + 1}{2} \right\}$$

प्राकृतिक संख्याएँ : प्रथम n प्राकृतिक संख्याओं का योग = $\frac{n(n+1)}{2}$

प्रथम n प्राकृतिक संख्याओं के वर्गों का योग

$$= \frac{n(n+1)(2n+1)}{6}$$

प्रथम n प्राकृतिक संख्याओं के

$$\text{वर्गों का योग} = \left[\frac{n(n+1)}{2} \right]^2$$

दो लगातार प्राकृतिक संख्याओं के वर्गों का अंतर उनके योगफल के बराबर होता है।

$$\text{उदाहरण} - 11^2 = 121$$

$$12^2 = 144$$

$$11 + 12 \rightarrow 23 \text{ Difference } 144 - 121 = 23$$

अभाज्य संख्याएँ (Prime Numbers) - जिसके

सिर्फ दो form हो- $1 \times$ संख्या

जैसे - $\{2, 3, 5, 7, 11, 13, 17, 19, \dots\}$

जहाँ 1 Prime Number नहीं है।

2 एकमात्र सम Prime संख्या है।

3, 5, 7 क्रमागत विषम अभाज्य संख्या का इकलौता जोड़ा है।

1 से 25 तक कुल अभाज्य संख्या = 9

25 से 50 तक कुल अभाज्य संख्या = 6

1-50 तक कुल 15 Prime Number है।

51-100 तक कुल 10 Prime Number है।

अतः 1-100 तक कुल 25 Prime Number है।

1 से 200 तक कुल अभाज्य संख्या = 46

1 से 300 तक कुल अभाज्य संख्या = 62

1 से 400 तक कुल अभाज्य संख्या = 78

1 से 500 तक कुल अभाज्य संख्या = 95

सह अभाज्य संख्याएँ - वह संख्याएँ जिनका HCF सिर्फ 1 हो।

उदाहरण - (4,9), (15, 22), (39, 40)

$$\text{HCF} = 1$$

Perfect Number (परफेक्ट संख्या) - वह संख्या

जिसके गुणनखण्डों का योग उस संख्या के बराबर हो (गुणनखण्डों में स्वयं उस संख्या को छोड़कर)

उदाहरण $-6 \rightarrow 1, 2, 3 \rightarrow$ यहाँ $1+2+3 \rightarrow 6$

$28 \rightarrow 1, 2, 4, 7, 14 \rightarrow 1+2+4+7+14$

$\rightarrow 28$

परिमेय (Rational) संख्याएँ - वह संख्याएँ जिन्हें

P/Q form में लिखा जा सकता है, लेकिन Q जहाँ शून्य नहीं होना चाहिए, P व Q पूर्णांक होने चाहिए।

उदाहरण - $2/3, 4/5, \frac{10}{-11}, \frac{7}{8}$

अपरिमित (Irrational) संख्याएँ - इन्हें P/Q form में प्रदर्शित नहीं किया जा सकता।

उदाहरण - $\sqrt{2}, \sqrt{3}, \sqrt{11}, \sqrt{19}, \sqrt{26} \dots$

पूर्णवर्ग संख्या



Unit Digit जो वर्ग के हो सकते हैं जो नहीं हो सकते

- | | |
|-----------|---------|
| • 0 | 2 _____ |
| • 1 | 3 _____ |
| • 4 | 7 _____ |
| • 5 or 25 | 8 _____ |
| • 6 | |
| • 9 | |
- किसी भी संख्या के वर्ग के अंतिम दो अंक वही होंगे जो 1-24 तक की संख्याओं के वर्ग के अंतिम दो अंक होंगे।

नोट - अतः सभी को 1-25 के वर्ग अवश्य याद होने चाहिए।

Binary व Decimal में बदलना

1. Decimal संख्या को Binary में बदलना
 किसी दशमलव संख्या के समतुल्य Binary number ज्ञात करने के लिए हम प्रदत्त दशमलव संख्या को लगातार 2 से तब तक भाग देते हैं जब तक कि अंतिम भागफल के रूप में 1 प्राप्त नहीं होता है।

उदाहरण -

अतः 89 के समतुल्य Binary number = $(1011001)_2$

2. Binary को Decimal में बदलना

Binary system में 1 का मान जब वह हर बार अपनी बाईं ओर एक स्थान खिसकता है, स्वयं का दोगुना हो जाता है तथा जहाँ कहीं भी 0 आता है उसका मान 0 होता है।

उदाहरण -

89	$2 \times 44 = 88 ; 89 - 88 = 1$
44	$2 \times 22 = 44 ; 44 - 44 = 0$
22	$2 \times 11 = 22 ; 22 - 22 = 0$
11	$2 \times 5 = 10 ; 11 - 10 = 1$
5	$2 \times 2 = 4 ; 5 - 4 = 1$
2	$2 \times 1 = 2 ; 2 - 2 = 0$
1	अंतिम भागफल

1	0	1	1	0	0	1
2^6	2^5	2^4	2^3	2^2	2^1	2^0

Now

$$\begin{aligned}
 (1011001)_2 &= 1 \times 2^6 + 0 \times 2^5 + 1 \times 2^4 + 1 \times 2^3 + 0 \times 2^2 + 0 \times 2^1 + 1 \times 2^0 \\
 &= 64 + 0 + 16 + 8 + 8 + 0 + 1 \{2^0 = 1\} = 89
 \end{aligned}$$

भाजकों की संख्या या गुणनसंख्या की संख्या निकालना

पहले संख्या का अभाज्य गुणनखंड करेंगे और उसे Power के रूप में लिखेंगे तथा प्रत्येक (Power) घात में एक जोड़कर गुणा करेंगे तो भाजकों की संख्या प्राप्त हो जायेगी।

उदाहरण - 2280 को कुल कितनी संख्याओं से पूर्णतः भाग दिया जा सकता है।

हल - $2280 = 2^3 \times 3^1 \times 5^1 \times 19^1$

$$\begin{aligned}
 \text{भाजकों की संख्या} &= (3+1)(1+1)(1+1)(1+1) \\
 &= 4 \times 2 \times 2 \times 2 = 32
 \end{aligned}$$

इकाई का अंक ज्ञात करना

1. जब संख्या घात (power) के रूप में हो
 जब Base का इकाई अंक 0, 1, 5 या 6 हो, तो कोई भी प्राकृतिक घात के लिए परिणाम का इकाई अंक वही रहेगा।

जब base का इकाई अंक 2, 3, 4, 7, 8, या 9 हो, तो Power में 4 से भाग देंगे और जितना शेष प्राप्त होगा उतना ही Base के इकाई अंक पर power रखेंगे। जब power, 4 से पूर्णतः कर जाता है तो base के इकाई अंक पर 4 power रखेंगे।

2. सरलीकरण के रूप में हो

प्रत्येक संख्या के इकाई के श्रृंखला को लिखकर चिन्ह के अनुसार सरल करेंगे जो परिणाम आयेगा उसका इकाई श्रृंखला उतर होगा।

Power वाली संख्याओं में भाग देना (भाजक निकालना)

- यदि $a^n + b^n$ दिया हो तो n विषम होने पर $(a+b)$ इसका भाजक होगा।
- यदि $a^n - b^n$ दिया हो तो n विषम होने पर भाजक $\rightarrow (a-b)$
 n सम होने पर भाजक $\rightarrow (a - b)$ या $(a + b)$ या दोनों।

- $a^n \div (a-1)$ हो, तो शेषफल हमेशा 1 बचेगा।
- $a^n \div (a+1)$
 - यदि n सम हो, तो हमेशा 1 बचेगा
 - यदि n विषम हो, तो शेषफल a होगा
- $(a^n + a) \div (a-1)$ हो, तो शेषफल 2 बचेगा
- $(a^n + a) \div (a+1)$
 - यदि n सम हो, तो शेषफल शून्य (0) होगा।
 - यदि n विषम हो, तो शेषफल $(a-1)$ होगा।

शांत दशमलव

वह संख्याएँ जो दशमलव के बाद कुछ श्रृंखला के बाद खत्म हो जाये जैसे - 0.25, 0.15, 0.375 इसे भिन्न संख्या में लिखा जा सकता है।

अशांत दशमलव

वह संख्याएँ जो दशमलव के बाद चलते रहते हैं और ये दो तरह के हो सकते हैं।

0.3333, 0.7777, 0.183183183.....

- जो संख्याएँ दशमलव के बाद कभी खत्म नहीं होती बल्कि पुनरावृत्ति करती हो, अनंत तक। इसे भिन्न में लिखा जा सकता है।

Non Repeating Decimal

जो संख्याएँ दशमलव के बाद कभी खत्म नहीं होती पर ये अपनी संख्याओं की निश्चित पुनरावृत्ति (Repeat) नहीं करती।

आवर्ती दशमलव भिन्न

पुनरावृत्ति Repeating

वह दशमलव भिन्न दशमलव बिंदु के बाद एक या अधिक श्रृंखला की पुनरावृत्ति होती है तो बिंदु के बाद एक या अधिक श्रृंखला की पुनरावृत्ति होती है।

जैसे - $\frac{1}{3} = 0.333\dots, \frac{22}{7} = 3.14285714\dots$ ऐसी

भिन्नों को व्यक्त करने के लिए दोहराए जाने वाले श्रृंखला के ऊपर एक रेखा खींच देते हैं।

$$0.333\dots = 0.\overline{3}$$

$$\frac{22}{7} = 3.14285714\dots = 3.\overline{142857}$$

इसे बार बोलते हैं।

- शुद्ध आवर्ती दशमलव भिन्न को निम्न प्रकार से साधारण भिन्न में बदले -

$$0.\overline{p} = \frac{p}{9} \quad 0.\overline{pq} = \frac{pq}{99} \quad 0.\overline{pqr} = \frac{pqr}{999}$$

- मिश्रित आवर्ती दशमलव भिन्न को निम्न प्रकार से साधारण भिन्न में बदले -

$$0.p\overline{q} = \frac{pq-p}{90} \quad 0.pq\overline{r} = \frac{pqr-pq}{900}$$

$$0.p\overline{qrs} = \frac{pqr-p}{990} \quad 0.pq\overline{rs} = \frac{pqrs-pq}{9900}$$

उदाहरण - (i) $0.\overline{39} = \frac{39}{99} = \frac{13}{33}$

(ii) $0.6\overline{25} = \frac{625-6}{990} = \frac{619}{990}$

(iii) $0.35\overline{24} = \frac{3524-35}{9900} = \frac{3489}{9900} = \frac{1163}{3300}$

रोमन पद्धति के संकेतक

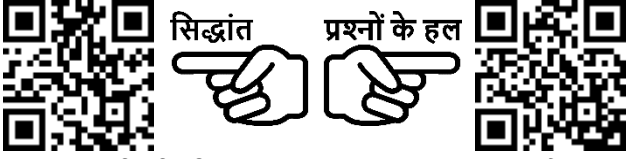
1	→	I
2	→	II
3	→	III
4	→	IV
5	→	V
6	→	VI
7	→	VII
8	→	VIII
9	→	IX
10	→	X
20	→	XX
30	→	XXX
40	→	XL
50	→	L
100	→	C
500	→	D
1000	→	M

विभाजकता के नियम

2 से	अन्तिम अंक 2म संख्या या शून्य (0) हो जैसे - 236, 150, 1000004
3 से	किसी संख्या में अंकों का योग 3 से विभाजित होगा तो पूर्ण संख्या 3 से विभाजित होगी। जैसे - 729, 12342, 5631
4 से	अन्तिम दो अंक शून्य हो या 4 से विभाजित हो जैसे - 1024, 58764, 567800
5 से	अन्तिम अंक शून्य या 5 हो जैसे - 3125, 625, 1250
6 से	कोई संख्या अगर 2 तथा 3 दोनों से विभाजित हो तो वह 6 से भी विभाजित होगी। जैसे - 3060, 42462, 10242
7 से	किसी संख्या के अन्तिम अंक को 2 से गुणा करके शेष संख्या से घटाने पर यदि संख्या 0 या 7 का गुणज हो तो अथवा किसी भी अंक का 6 के गुणज में दोहराए तो संख्या 7 से विभाज्य होगी। जैसे - 222222, 444444444444, 7854
8 से	यदि किसी संख्या के अन्तिम तीन अंक 8 से विभाज्य हो या अन्तिम तीन अंक '000' (शून्य) हो। जैसे - 9872, 347000

9 से	किसी संख्या के अंकों का योग अगर 9 से विभाज्य हो तो पूर्ण संख्या 9 से विभाज्य होगी।
10 से	अन्तिम अंक शून्य (0) हो तो
11 से	विषम स्थानों पर अंकों का योग व सम स्थानों पर अंकों के योग का अंतर शून्य (0) या 11 या 11 का गुणज हो तो जैसे - 1331, 5643, 8172659
12 से	3 व 4 के विभाज्य का संयुक्त रूप
13 से	अंक का 6 बार दोहराए तो, या अन्तिम अंक का 4 से गुणा करके शेष संख्या में जोड़ने पर संख्या अगर 13 से विभाजित हो तो पूर्ण संख्या 13 से विभाजित होगी। जैसे - 222222, 17784

हल सहित उदाहरण
संख्याओं के योग, अंतर तथा गुणनफल पर
आधारित



उदा.1 यदि किसी संख्या का $\frac{3}{4}$ उस संख्या के $\frac{1}{6}$ से 7 अधिक है, तो उस संख्या $\frac{5}{3}$ क्या होगा ?

- (a) 12 (b) 18
 (c) 15 (d) 20

उत्तर (d)

उदा.2 यदि दो संख्याओं का योगफल तथा उनका गुणनफल a तथा b , उनके व्युत्क्रमों का योगफल होगा

- (a) $\frac{1}{a} + \frac{1}{b}$ (b) $\frac{b}{a}$
 (c) $\frac{a}{b}$ (d) $\frac{a}{ab}$

उत्तर (c) 1"

उदा.3 दो संख्याओं का योग 75 है और उनका अंतर 25 है, तो उन दोनों संख्याओं का गुणनफल क्या होगा ?

- (a) 1350 (b) 1250
 (c) 1000 (d) 125

उत्तर (b)

उदा.4 एक विद्यार्थी ने किसी संख्या का $\frac{5}{16}$ ज्ञात करने के लिये कहा गया और गलती से उस संख्या का $\frac{5}{6}$ ज्ञात कर लिया अर्थात् उसका उत्तर सही उत्तर से 250 अधिक था तो दी हुई संख्या ज्ञात कीजिये ।

- (a) 300 (b) 480
 (c) 450 (d) 500

उत्तर (b)

राम, विषम तथा श्रभाज्य संख्याओं पर
आधारित



उदा.1 यदि किन्हीं तीन क्रमागत विषम प्राकृत संख्याओं का योग 147 हो, तो बीच वाली संख्या होगी ।

- (a) 47 (b) 48
 (c) 49 (d) 51

उत्तर (c)

उदा.2 तीन श्रभाज्य संख्याओं का योग 100 है यदि उनमें से एक संख्या दूसरी संख्या से 36 अधिक हो तो एक संख्या क्या होगा ?

भाग, भागफल तथा शेषफल पर आधारित



उदा.1 64329 को जब किसी संख्या से भाग दिया जाता है, तो 175, 114 तथा 213 लगातार तीन शेषफल आते हैं तो भाज्य क्या है ?

- (a) 184 (b) 224
 (c) 234 (d) 296

उत्तर (c)

उदा.2 $(3^{25} + 3^{26} + 3^{27} + 3^{28})$ विभाजित है ।

- (a) 11 (b) 16
 (c) 25 (d) 30

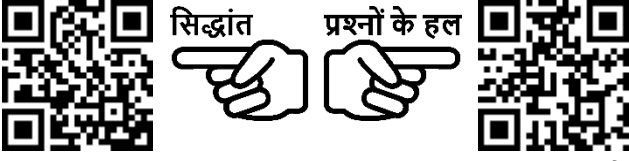
उत्तर (d)

उदा.3 विभाजन के एक योगफल में विभाजक, भागफल का 12 गुना तथा शेषफल का 5 गुना है । तदनुसार, यदि उसमें शेषफल 36 हो, तो भाज्य कितना होगा ?

- (a) 2706 (b) 2796
 (c) 2736 (d) 2826

उत्तर (c)

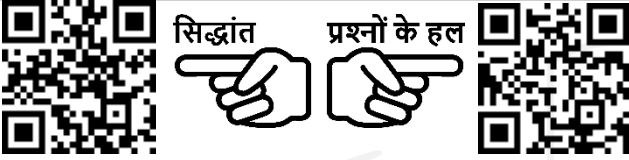
इकाई श्रंक निकालना आघारित



उदा.1 $416 \times 333 + 2167 \times 118 - 114 \times 133$ के परिणाम का इकाई श्रंक ज्ञात कीजिए ?

उदा.2 $(3694)^{1739} \times (615)^{317} \times (841)^{491}$ में इकाई श्रंक कितना है ?
 (a) 0 (b) 2
 (c) 3 (d) 5

प्राकृतिक संख्याओं के square एवं cube तथा उनके योग एवं श्रंत आघारित



उदा.1 $(11^2 + 12^2 + 13^2 + \dots + 20^2) = ?$

(a) 385 (b) 2485
 (c) 2870 (d) 3255

उदा.2 $1^3 + 2^3 + 3^3 + \dots + 10^3 = ?$

दशमलव संख्या आघारित



उदा.1 एक विद्यार्थी को निम्नलिखित व्यंजक को सरल करने को कहा गया

$$\frac{0.0016 \times 0.025}{0.325 \times 0.05} \div \frac{0.1216 \times 0.105 \times 0.002}{0.08512 \times 0.625 \times 0.039} + \left(\sqrt[3]{27} - \sqrt[3]{\frac{3}{4}} \right)^2$$

उत्तर $\frac{19}{10}$ था। उत्तर के उत्तर में कितने प्रतिशत त्रुटि थी ?

उदा.2 $\frac{0.936 - 0.568}{0.45 + 2.67}$ को परिमेय संख्या के रूप में व्यक्त कीजिए ?

शून्य की संख्या पर आघारित



उदा.1 $(1^1 \times 2^2 \times 3^3 \times 4^4 \times \dots \times 98^{98} \times 99^{99} \times 100^{100})$ के गुणनफल में शून्यों की संख्या ज्ञात करें ?

(a) 1200 (b) 1300
 (c) 1500 (d) 1600

उदा.2 $1 \times 2 \times 3 \times \dots \times 250$ को गुणा किया जाए तो परिणाम के श्रंत में कितने 0 होंगे ?

शबसे बडी तथा शबसे छोटी संख्या/भिन्न ज्ञात करना आघारित



उदा.1 निम्न में से $\frac{2}{5}$ और $\frac{4}{9}$ के बीच उपस्थित भिन्न हैं ?

(a) $\frac{3}{7}$ (b) $\frac{2}{3}$
 (c) $\frac{4}{5}$ (d) $\frac{1}{2}$

उदा.2 निम्न में से बडी संख्या है।

$(3)^{\frac{1}{3}}, (2)^{\frac{1}{2}}, 1, (6)^{\frac{1}{6}}$

(a) $(2)^{\frac{1}{2}}$ (b) 1
 (c) $(6)^{\frac{1}{6}}$ (d) $(3)^{\frac{1}{3}}$

आशेही/अवशेही क्रम आघारित



उदा.1 $\sqrt{2}, \sqrt[3]{4}, \sqrt[4]{6}$ को बढ़ते क्रम में लिखने पर -

(a) $\sqrt{2}, \sqrt[3]{4}, \sqrt[4]{6}$ (b) $\sqrt[4]{6} < \sqrt{2} < \sqrt[3]{4}$
 (c) $\sqrt[4]{6} < \sqrt[3]{4} < \sqrt{2}$ (d) $\sqrt{2} < \sqrt[4]{6} < \sqrt[3]{4}$

उदा.2 निम्नलिखित को आरोही क्रम में सजाएँ -

$$\sqrt{7} - \sqrt{5}, \sqrt{5} - \sqrt{3}, \sqrt{9} - \sqrt{7}, \sqrt{11} - \sqrt{9}$$

उदा.3 संख्याओं $\frac{7}{9}, \frac{11}{13}, \frac{16}{19}, \frac{21}{25}$ को आरोही क्रम में लिखिये ?

गुणनखंडों की संख्या पर आधारित



प्रश्नों के हल



उदा.1 $\{(127)^{127} + (97)^{127}\}$ तथा $\{(127)^{97} + (97)^{97}\}$

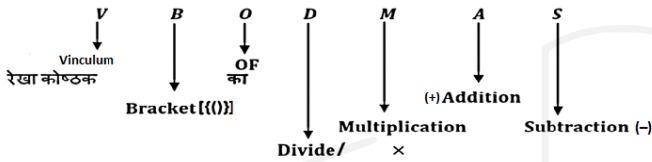
का अभ्यनिष्ठ गुणनखण्ड क्या होगा ?

- | | |
|---------|---------|
| (a) 127 | (b) 97 |
| (c) 30 | (d) 224 |

उदा.2 $\frac{(18)^{15} \times (75)^{16} \times (42)^{14}}{(35)^{12} \times (12)^{16}}$ में कितने शून्यात्मक खंड हैं ?

शरलीकरण (Simplification)

- शरलीकरण के श्रंतर्गत हम दलर गये श्रॉकडों को शरल रूप में प्रदर्शरत करते हैं जैसे कल श्रॉकडे भरन में, दशमलव में, बट्टे में, घात में तथा Mathematical Operation को हल करके या रूप बदल के कलर जाता है ।
- यदल कुछ संख्या पर भरन-भरन प्रकार के Operation दलर हो तो हम उले कैसे हल करे कल प्रश्न का उत्तर शही श्राये उसके ललर एक Rule होता है जलर हम VBODMAS का Rule कहते हैं ।
- हम पहले कौनशा Operation करे, यह VBODMAS का Rule तय करता है ।



- इन शभी गणरतीय कलरओं में शबसे पहले V है जलरका मतलब Vinculum (रेखा कोष्ठक) है । यदल प्रश्न में रेखा कोष्ठक है तो शर्वप्रथम उले हल करेंगे श्रौर उसके फलर (BODMAS) Rule कलर करेगा
- दलरतीय स्थान पर B (Bracket) मतलब कोष्ठक है जो भरन हो सकते हैं-
 1. छोटा कोष्ठक ()
 2. मंझला कोष्ठक { }
 3. बडा कोष्ठक []
- शबसे पहले छोटा कोष्ठक, फलर मंझला कोष्ठक श्रौर उसके बाद बडा कोष्ठक हल कलर जाता है ।
- तृतीय स्थान पर "O" है जो कल "of" या "Order" ले बना है, जलरका मतलब "गुणा" ले या "का" ले होता है ।
- चतुर्थ स्थान पर "D" है जलरका मतलब "Division" है, दलर गये व्यंजन में भरन-भरन कलरओं में शबसे पहले भाग करते हैं यदल दलर है तो ।
- पंचम स्थान पर "M" है जलरका मतलब "Multiplication" है, दलर गये व्यंजन में

"Division" के बाद "Multiplication" (गुणा) करेंगे ।

- छठा स्थान "A" शखता है जो "Addition" (जोडा) ले संबंधरत है । Division-multiplication के बाद Addition कलर होती है ।
- शप्तम स्थान पर "S" है जो "Subtraction" ले बना है ।

प्रश्न. शरल कलरलर ।

$$\left[3\frac{1}{4} \div \left\{ 1\frac{1}{4} - \frac{1}{2} \left(2\frac{1}{2} - \frac{1}{4} - \frac{1}{6} \right) \right\} \right] \div \left(\frac{1}{2} \text{ of } 4\frac{1}{3} \right)$$

हल Step 1 – शबसे पहले शभी भरन भरनों को शलधारण भरनों में बदलते हैं ।

$$\left[\frac{13}{4} \div \left\{ \frac{5}{4} - \frac{1}{2} \left(\frac{5}{2} - \frac{1}{4} - \frac{1}{6} \right) \right\} \right] \div \left(\frac{1}{2} \text{ of } \frac{13}{3} \right)$$

श्रब VBODMAS के श्रनुसार

Step 2 –

$$\left[\frac{13}{4} \div \left\{ \frac{5}{4} - \frac{1}{2} \left(\frac{5}{2} - \frac{3-2}{12} \right) \right\} \right] \div \left(\frac{1}{2} \text{ of } \frac{13}{3} \right)$$

Step 3 –

$$\left[\frac{13}{4} \div \left\{ \frac{5}{4} - \frac{1}{2} \left(\frac{5}{2} - \frac{1}{12} \right) \right\} \right] \div \frac{13}{6}$$

Step 4 –

$$\left[\frac{13}{4} \div \left\{ \frac{5}{4} - \frac{1}{2} \times \left(\frac{30-1}{12} \right) \right\} \right] \div \frac{13}{6}$$

Step 5 –

$$\left[\frac{13}{4} \div \left\{ \frac{5}{4} - \frac{1}{2} \times \frac{29}{12} \right\} \right] \div \frac{13}{6}$$

$$\text{Step 6} - \left[\frac{13}{4} \div \left\{ \frac{30-29}{24} \right\} \right] \div \frac{13}{6}$$

$$\text{Step 7} - \left[\frac{13}{4} \div \frac{1}{24} \right] \div \frac{13}{6}$$

$$\text{Step 8} - \left[\frac{13}{4} \times 24 \right] \div \frac{13}{6}$$

$$\text{Step 9} - 13 \times 6 \times \frac{6}{13}$$

$$= 36 \text{ Ans.}$$

बीजगणितीय सूत्र

1. $(a + b)^2 = a^2 + 2ab + b^2$
2. $(a - b)^2 = a^2 - 2ab + b^2$
3. $(a + b)^2 + (a - b)^2 = 2(a^2 + b^2)$
4. $(a^2 - b^2) = (a + b)(a - b)$
5. $a^2 + b^2 + c^2 = (a + b + c)^2 - 2(ab + bc + ca)$
6. $a^2 + \frac{1}{a^2} = \left(a + \frac{1}{a} \right)^2 - 2$
7. $a^2 + b^2 + c^2 - ab - bc - ca = \frac{1}{2} \left[(a-b)^2 + (b-c)^2 + (c-a)^2 \right]$
8. $a^3 + b^3 = (a + b)^3 - 3ab(a + b) = (a + b)(a^2 - ab + b^2)$
9. $a^3 - b^3 = (a - b)^3 + 3ab(a - b) = (a - b)(a^2 + ab + b^2)$
10. $a^3 + b^3 + c^3 - 3abc = (a + b + c)(a^2 + b^2 + c^2 - ab - bc - ca)$
 $= \frac{1}{2}(a + b + c) \{ (a-b)^2 + (b-c)^2 + (c-a)^2 \}$

यदि $a + b + c = 0$ हो तो

$$a^3 + b^3 + c^3 = 3abc$$

$$11. a^3 + \frac{1}{a^3} = \left(a + \frac{1}{a} \right)^3 - 3 \left(a + \frac{1}{a} \right)$$

$$12. a^3 - \frac{1}{a^3} = \left(a - \frac{1}{a} \right)^3 + 3 \left(a - \frac{1}{a} \right)$$

समान्तर श्रेणी

वह श्रेणी जिसका प्रत्येक पद अपने पूर्व पद से कोई नियत राशि जोड़ने अथवा घटाने से प्राप्त होता है।

जैसे - 2, 5, 8, 11,

समान्तर श्रेणी का n वाँ पद

$$T_n = a + (n - 1)d$$

जहाँ $a =$ प्रथम पद

$d =$ शार्व अंतर (द्वितीय पद - प्रथम पद)

$n =$ पदों की संख्या

$$\text{समान्तर श्रेणी के } n \text{ पदों का योग } S_n = \frac{n}{2} [2a + (n-1)d]$$

$$\text{यदि प्रथम व अंतिम पद ज्ञात हो तो } S_n = \frac{n}{2} [a + l]$$

जहाँ $l =$ अंतिम पद

$$\text{दो राशियों के मध्य समान्तर माध्य } A = \frac{a+b}{2} \quad [a, b \text{ का}$$

समान्तर माध्य A है।]

गुणोत्तर श्रेणी

यदि श्रेणी के प्रत्येक पद का उसके पूर्व पद से अनुपात एक निश्चित राशि होती है तो गुणोत्तर श्रेणी होती है। इस निश्चित राशि को शार्व अनुपात कहते हैं।

गुणोत्तर श्रेणी का n वाँ पद

$$T_n = a \cdot r^{n-1}$$

जहाँ $a =$ प्रथम पद

$r =$ शार्व अनुपात

$n =$ पदों की संख्या

गुणोत्तर श्रेणी के n पदों का योगफल

$$S_n = a \left(\frac{1-r^n}{1-r} \right); \text{ जब } r < 1 \quad S_n = a \left(\frac{r^n - 1}{r - 1} \right); \text{ जब } r > 1$$

1. दो राशियों के मध्य गुणोत्तर माध्य $G = \sqrt{ab}$

2. यदि दो घनात्मक राशियों a व b के मध्य समान्तर माध्य तथा गुणोत्तर माध्य A व G हैं तो

$$A > G, \quad \frac{a+b}{2} > \sqrt{ab}$$

हरात्मक श्रेणी

किसी श्रेणी के पदों के व्युत्क्रम उते क्रम में लिखने पर समान्तर श्रेणी में हो तो उते हरात्मक श्रेणी कहते हैं।

हरात्मक श्रेणी का n वाँ पद

$$T_n = \frac{1}{a + (n-1)d}$$

$$\text{हरात्मक माध्य (H)} = \frac{2ab}{a+b}$$

समांतर माध्य, गुणोत्तर माध्य व हरात्मक माध्य में संबंध

माना A, G तथा H दो शक्तियों a व b के मध्य क्रमशः समांतर माध्य, गुणोत्तर माध्य व हरात्मक माध्य हैं तब

$$G^2 = AH \quad \text{तथा} \quad A > G > H$$

अभ्यास प्रश्न

VBODMAS – आधारित



उदा.1 The value of $24 \times 2 \div 12 + 12 \div 6$ of $2 \div (15 \div 8 \times 4)$ of $(28 \div 7$ of $5)$ is –

- (a) $4\frac{32}{75}$ (b) $4\frac{8}{75}$
 (c) $4\frac{2}{3}$ (d) $4\frac{1}{6}$

उदा.2 सरल करें

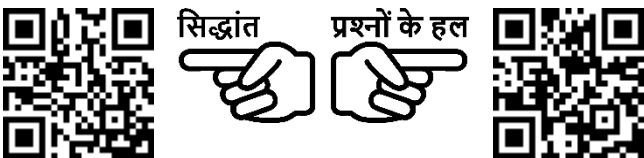
$$\left[3\frac{1}{4} \div \left\{ 1\frac{1}{4} - \frac{1}{2} \left(2\frac{1}{2} - \frac{1}{4} - \frac{1}{6} \right) \right\} \right] \div \left(\frac{1}{2} \text{ of } 4\frac{1}{3} \right)$$

उदा.3 सरल करें।

$$2\frac{3}{4} \div 1\frac{5}{6} \div \frac{7}{8} \times \left(\frac{1}{3} + \frac{1}{4} \right) + \frac{5}{7} \div \frac{3}{4} \text{ of } \frac{3}{7}$$

(a) $\frac{56}{77}$ (b) $\frac{49}{80}$
 (c) $\frac{2}{3}$ (d) $3\frac{2}{9}$

वर्गान्तर तथा वर्गमूल आधारित



उदा.1 निम्नलिखित का मान है –

$$\sqrt{5 + \sqrt{11 + \sqrt{19 + \sqrt{29 + \sqrt{49}}}}} \text{ is}$$

- (a) 3 (b) 9
 (c) 7 (d) 5

उत्तर (a)

उदा.2 यदि $(102)^2 = 10404$ है, तो

$$\sqrt{104.04} + \sqrt{1.0404} + \sqrt{0.010404}$$

का मान किसके बराबर है ?

- (a) 0.306 (b) 0.0306
 (c) 11.122 (d) 11.322

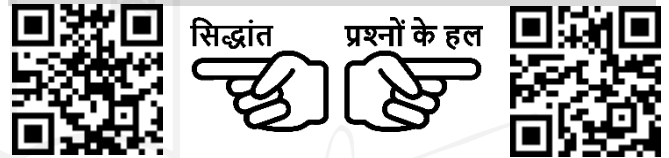
उत्तर (d)

उदा.3 $33 - 4\sqrt{35}$ का वर्गमूल क्या है ?

- (a) $\pm(2\sqrt{7} + \sqrt{5})$ (b) $\pm(\sqrt{7} + 2\sqrt{5})$
 (c) $\pm(\sqrt{7} - 2\sqrt{5})$ (d) $\pm(2\sqrt{7} - \sqrt{5})$

उत्तर (d)

घनान्तर तथा घनमूल आधारित



उदा.1 $(\sqrt{4^3 + 15^2})^3$ का मान क्या है ?

- (a) 4913 (b) 4313
 (c) 4193 (d) 3943

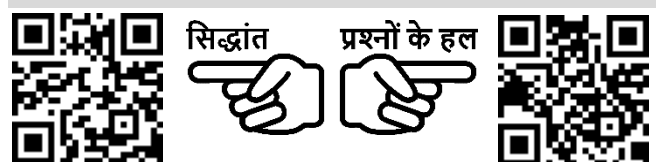
उत्तर (a)

उदा.2 710 में कौनसी छोटी संख्या जोड़ी जानी चाहिए ताकि योग एक पूर्ण घन बन जाए ?

- (a) 29 (b) 19
 (c) 11 (d) 21

उत्तर (b)

भिन्न आधारित



उदा.1 निम्नलिखित का मान है –

$$4 - \frac{5}{1 + \frac{1}{3 + \frac{1}{2 + \frac{1}{4}}}} \text{ is}$$

- (a) $\frac{1}{8}$ (b) $\frac{1}{64}$
 (c) $\frac{1}{16}$ (d) $\frac{1}{32}$

उत्तर (a)

उदा.2 यदि $2 = x + \frac{1}{1 + \frac{1}{3 + \frac{1}{4}}}$ है तो x का मान ज्ञात करें।

- (a) $\frac{18}{17}$ (b) $\frac{21}{17}$
 (c) $\frac{13}{17}$ (d) $\frac{12}{17}$

उत्तर (b)

उदा.3 $999 \frac{998}{999} \times 999$ किसके बराबर है ?
 (a) 998999 (b) 999899
 (c) 989999 (d) 999989

उत्तर (a)

उदा.4 $\frac{1}{5} + 999 \frac{494}{495} \times 99$ का मान ज्ञात करें।
 (a) 90000 (b) 99000
 (c) 90900 (d) 99990

उत्तर (b)

बीजगणितीय शूत्रों पर आधारित



उदा.1 $\left(\sqrt{2} + \frac{1}{\sqrt{2}}\right)^2$ के बराबर है ?
 (a) $2\frac{1}{2}$ (b) $3\frac{1}{2}$
 (c) $4\frac{1}{2}$ (d) $5\frac{1}{2}$

उत्तर (c)

उदा.2 $\frac{0.51 \times 0.051 \times 0.051 + 0.041 \times 0.041 \times 0.041}{0.51 \times 0.051 - 0.051 \times 0.041 + 0.041 \times 0.041}$ का मान क्या है ?
 (a) 0.92 (b) 0.092
 (c) 0.0092 (d) 0.00092

उत्तर (b)

श्रेणी आधारित (समान्तर श्रेणी, गुणोत्तर श्रेणी, हरात्मक श्रेणी)



उदा.1 50 से कम 3 के सभी गुणजों का योगफल ज्ञात करें ?
 (a) 400 (b) 408
 (c) 404 (d) 412

उत्तर (b)

उदा.2 निम्नलिखित समांतर श्रेणी में कितने पद हैं ?
 7, 13, 19, , 205

उदा.3 5 के उन सभी घनात्मक गुणकों का योग ज्ञात करें जो 100 से कम हैं ?

समीकरण आधारित



उदा.1 एक पर्यटक प्रतिदिन उतने ही रुपये खर्च करता है जितने उसके पर्यटन के दिनों की संख्या है। उसका कुल खर्च रुपये 361 है, तो ज्ञात करें कि उसका पर्यटन कितने दिनों तक चला ?
 (a) 17 days (b) 19 days
 (c) 21 days (d) 31 days

उत्तर (b)

उदा.2 यदि दो संख्याओं का योग 22 है, और उनके वर्गों का योग 404 है, तो उन संख्याओं का गुणनफल ज्ञात करें ?
 (a) 40 (b) 44
 (c) 80 (d) 89

उत्तर (a)

उदा.3 जब एक दो अंकों की संख्या को उसके अंकों के योग से गुणा किया जाता है, तो गुणनफल 424 होता है। जब उसके अंकों को आपस में बदलने से प्राप्त संख्या को अंकों के योग से गुणा किया जाता है तो परिणाम 280 होता है। संख्या के अंकों का योग कितना है ?

(a) 7

(b) 9

(c) 6

(d) 8

उत्तर (d)



लघुत्तम समापवर्त्य व महत्तम समापवर्तक (LCM & HCF)

गुणनखण्ड

एक संख्या को दूसरे का गुणनखण्ड कहा जाता है, यदि यह दूसरे को पूरी तरह से विभाजित कर दे। इस प्रकार 3 व 4, 12 के गुणनखण्ड हैं।

समापवर्तक

वह संख्या जो दो या दो से अधिक दी हुयी संख्याओं को पूर्णतः विभाजित कर दे, उन संख्याओं का समापवर्तक कहलाती है। इस प्रकार 9, 18, 21 एवं 33 का एक समापवर्तक 3 है।

LCM (Lowest Common Multiple) (लघुत्तम समापवर्त्य)

- वह सबसे छोटी संख्या जो दी गयी संख्याओं से पूर्णतया विभाज्य हो, LCM कहलाती है।
- Power वाले संख्या का LCM निकालना - श्रभाज्य गुणनखण्ड करने के बाद Power के रूप में लिखेंगे और जितने श्रभाज्य संख्या का प्रयोग होगा उसे गुणा के रूप में लिखेंगे और उस पर अधिकतम Power रखेंगे।

उदा.1 $(12)^{16}, (18)^{15}, (30)^{18}$ का LCM निकालें।

हल $(12)^{16} = (2 \times 2 \times 3)^{16} = (2^2 \times 3)^{16} = 2^{32} \times 3^{16}$
 $(18)^{15} = (2 \times 3 \times 3)^{15} = (2 \times 3^2)^{15} = 2^{15} \times 3^{30}$
 $(30)^{18} = (2 \times 3 \times 5)^{18} = 2^{18} \times 3^{18} \times 5^{18}$
 अतः LCM = $2^{32} \times 3^{30} \times 5^{18}$ Ans.

भिन्नों का LCM निकालना

$$\text{LCM} = \frac{\text{अंशों का LCM}}{\text{हरों का HCF}}$$

उदा.2 $\frac{1}{2}$ व $\frac{5}{8}$ का LCM ?

$$\text{LCM} = \frac{1 \text{ व } 5 \text{ का LCM}}{2 \text{ व } 8 \text{ का HCF}} \Rightarrow \frac{5}{2}$$

HCF (Highest Common Factor)

महत्तम समापवर्तक

- वह सबसे बड़ी संख्या जिससे दी गयी सभी संख्याएँ पूर्णतः विभाजित हो, HCF कहलाता है।

- जैसे - 18 एवं 24 का म.स.प. 6 है।

उदा.1 HCF निकालना : दो संख्याओं का HCF भाग विधि द्वारा निकाला जाता है, तो भागफल क्रमशः 3, 4, एवं 5 प्राप्त होता है। यदि दो संख्याओं का HCF, 18 हो तो संख्याएँ ज्ञात कीजिए।

हल दो संख्याएँ a एवं b हैं

$$a \sqrt{b} \quad 3$$

$$c \sqrt{a} \quad 4$$

$$d \sqrt{\frac{c}{x \times x}} \quad 5$$

अंशित भाजक HCF होता है।

$$d = 18$$

$$c = 5 \times d = 5 \times 18 = 90$$

$$a = (4 \times c) + d$$

$$= (4 \times 90) + 18 = 378$$

$$b = 3a + c$$

$$= (3 \times 378) + 90 = 1134 + 90$$

$$= 1224, 378 \text{ Ans}$$

Power वाली संख्या का HCF निकालना

पहले Base का श्रभाज्य गुणनखण्ड करेंगे और उसे Power के रूप में लिखेंगे और जो सभी में Common श्रभाज्य संख्या होगी, उसे गुणा के रूप में लिखेंगे और उस पर न्यूनतम Power रखेंगे।

उदा.1 $(24)^8, (36)^{12}, (18)^{16}$ का HCF निकालें।

हल $24 = (2^3 \times 3)^8 = 2^{24} \times 3^8$

$$36 = (2^2 \times 3^2)^{12} = 2^{24} \times 3^{24}$$

$$18 = (2 \times 3^2)^{16} = 2^{16} \times 3^{32}$$

अतः म.स.प. = $2^{16} \times 3^8$

भिन्न का HCF निकालना

$$\text{भिन्न का HCF} = \frac{\text{अंश का HCF}}{\text{हर का LCM}}$$

उदा.1 $\frac{18}{25}, \frac{12}{7}, \frac{6}{35}$

हल $\frac{18, 12, 6 \text{ का HCF}}{25, 7, 35 \text{ का LCM}} = \frac{6}{175}$

किसी दो संख्याओं का जोड़ तथा ल.स.प. का म.स.प., उन संख्याओं के म.स. के बराबर होता है।

माना दो संख्याएँ x तथा y हैं, तथा उनका म.स. H है।

अतः $x = Ha$

$y = Hb$

जहाँ a तथा b परस्पर अभाज्य हैं।

x, y का $LCM = Hab$

और $x + y = H(a + b)$

अब 'a' तथा 'b' परस्पर अभाज्य संख्याएँ हैं, तो $(a + b)$ तथा ab भी परस्पर अभाज्य होगी। इसीसे यह निष्कर्ष निकलता है कि $H(a + b)$ तथा Hab का म.स. H ही होगा, जो x तथा y का भी म.स. है।

LCM एवं HCF में Relation

$LCM \times HCF =$ दोनों संख्याओं का गुणनफल

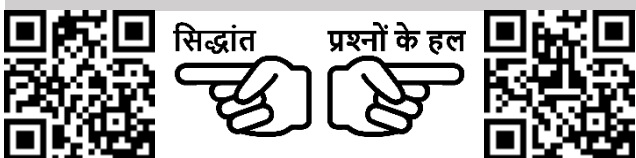
उदा.1 दो संख्याओं का LCM एवं HCF क्रमशः 420 एवं 28 हैं। यदि एक संख्या 84 है, तो दूसरी संख्या ज्ञात कीजिए -

हल दूसरी संख्या = $\frac{420 \times 28}{84} = 140$

- जब कहा जाये कि x, y, z के लिये वह छोटी से छोटी संख्या क्या होगी जिसमें भाग देने पर r शेष बच जाये, इसके लिए उत्तर होगा x, y, z का $(LCM + r)$ ।
- वह छोटी से छोटी संख्या जिसे x, y, z से भाग करने पर शेषफल क्रमशः a, b, c हो। इसके लिये उत्तर होगा $(x, y, z) - K$ का LCM।

हल सहित उदाहरण

महत्तम समापवर्तक आधारित



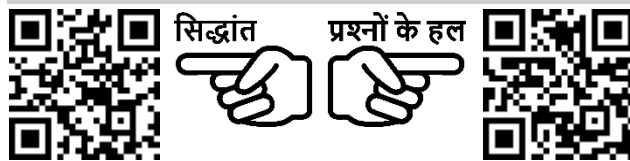
उदा.1 84, 126, 140 का महत्तम समापवर्तक कितना है ?

उदा.2 $x^6 - 1$ और $x^4 + 2x^3 - 2x^1 - 1$ का म.स. क्या होगा ?

- (a) $x^2 + 1$ (b) $x - 1$
 (c) $x^2 - 1$ (d) $x + d$

उत्तर (c)

लघुतम समापवर्त्य आधारित



उदा.1 15, 18, 24, 27, 36 का लघुतम समापवर्त्य क्या होगा ?

हल संक्षिप्त विधि द्वारा -

3	15, 18, 24, 27, 36
3	6, 8, 9, 12
2	5, 2, 8, 3, 4
2	5, 1, 4, 3, 2
	5, 1, 2, 3, 1

\therefore ल.स. = $(3 \times 3 \times 2 \times 2 \times 5 \times 2 \times 3) = 1080$

उदा.2 दो संख्याओं का योग 45 है। उनका अंतर योग का $\frac{1}{9}$ है, तो उनका ल.स. ज्ञात करें।

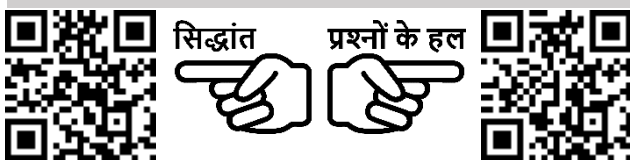
- (a) 200 (b) 250
 (c) 100 (d) 150

उत्तर (c)

उदा.3 छः घण्टियाँ एक साथ बजनी आरम्भ हुई, यदि ये घण्टियाँ क्रमशः 2, 4, 6, 8, 10, 12 सेकण्ड के अंतराल से बजे, तो 30 मिनट में कितनी बार ये एक साथ इकट्ठी बजेंगी ?

- (a) 4 बार (b) 10 बार
 (c) 16 बार (d) इनमें से कोई नहीं

भिन्नों के ल.स.प. तथा म.स.प.



उदा.1 $\frac{14}{33}, \frac{42}{55}, \frac{21}{22}$ का महत्तम समापवर्तक ज्ञात कीजिए -

उदा.2 $\frac{11}{14}, \frac{55}{42}, \frac{33}{35}, \frac{44}{63}$ का लघुतम समापवर्तक ज्ञात कीजिए -